

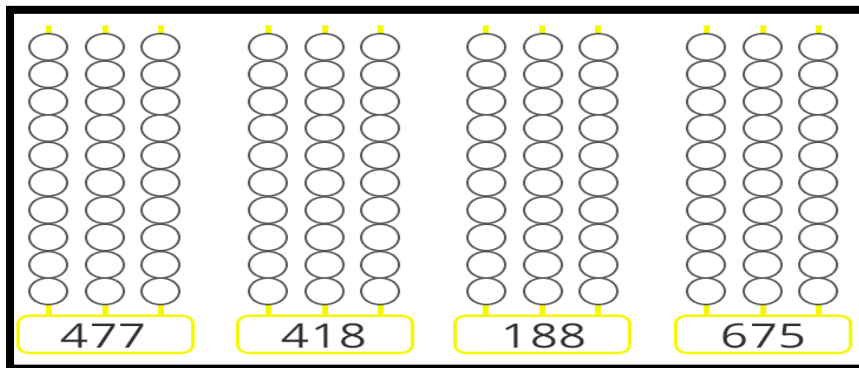


ACTIVIDADES

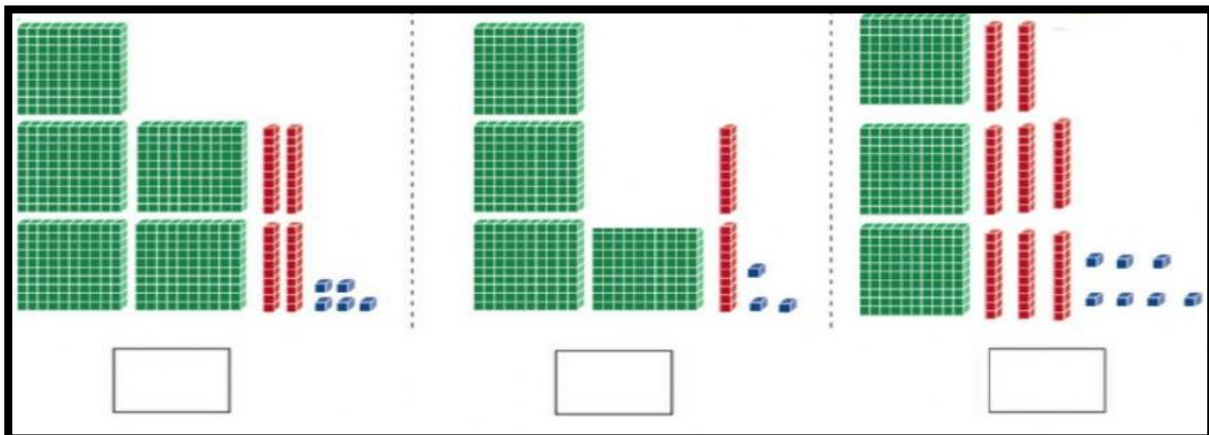
1. Escribe en letras los siguientes números:

- a. 345 \_\_\_\_\_
- b. 786 \_\_\_\_\_
- c. 659 \_\_\_\_\_
- d. 800 \_\_\_\_\_
- e. 977 \_\_\_\_\_

2. Representa en el ábaco los siguientes números:



3. Escribe el número correcto en cada caso:



4. Observa el ejemplo y completa:

$736 = 700 + 30 + 6 = 7C + 3D + 6U$


$547 = \square + \square + 7 = \square + \square + \square$

$762 = \square + \square + \square = 7C + \square + \square$

$391 = \square + \square + \square = \square + \square + \square$

5.

Coloca los signos mayor que ">" o menor que "<"

13	○	9	
51	○	47	
17	○	25	
26	○	62	
45	○	12	
82	○	70	

7	○	12
42	○	34
16	○	24

www.edufichas.com

6. Resuelve las siguientes operaciones:

a. Sumas:

664	374	674	396
+ 585	+ 199	+ 418	+ 406
<hr/>	<hr/>	<hr/>	<hr/>

b. Restas:

655	744	363	679
- 407	- 189	- 209	- 382
<hr/>	<hr/>	<hr/>	<hr/>
366	569	700	367
- 184	- 280	- 562	- 271
<hr/>	<hr/>	<hr/>	<hr/>

7. Resuelve los siguientes problemas:

a. En una fiesta hay 300 confites de chocolate, 256 de menta y 268 de fresa. ¿Cuántos chocolates hay en total?

DATOS	OPERACIÓN	RESPUESTA

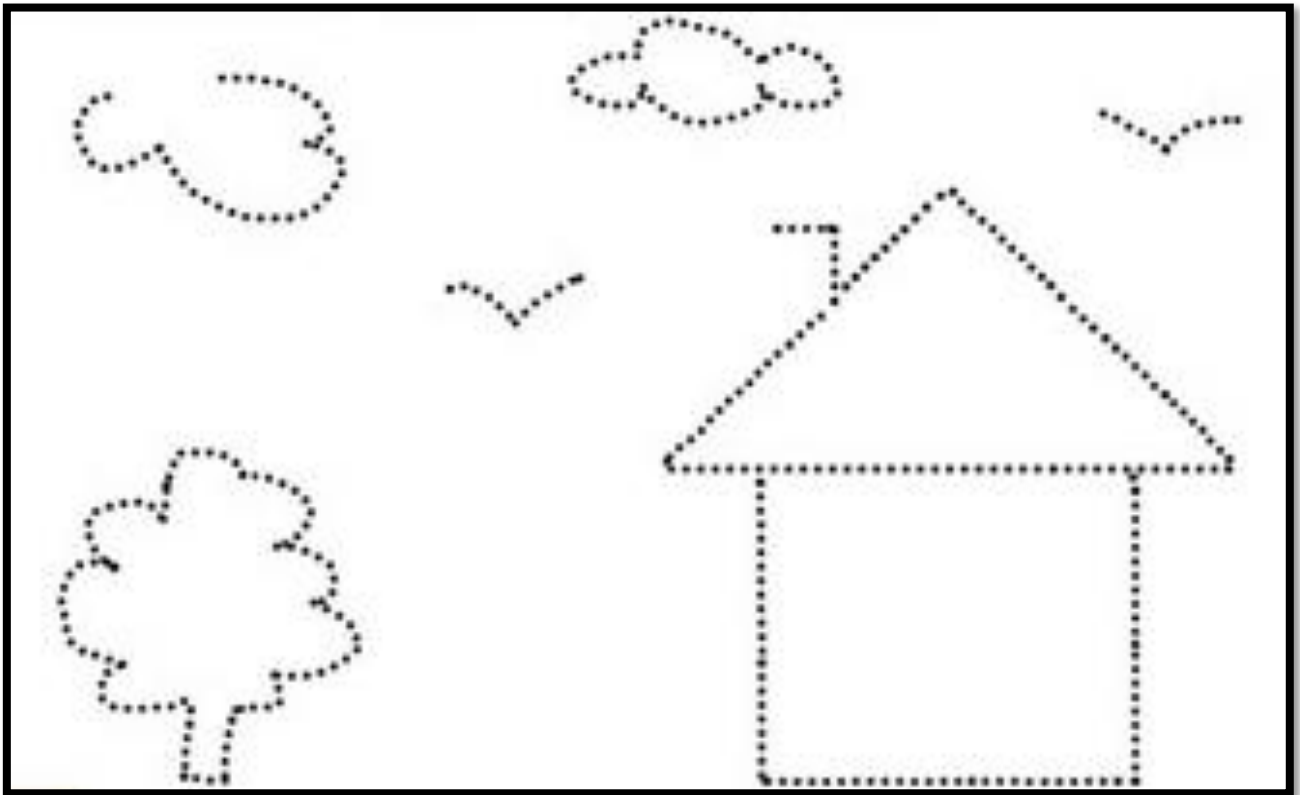
b. En el metro van 976 personas, en la estación Floresta se bajan 237. ¿Cuántas personas quedaron?

DATOS	OPERACIÓN	RESPUESTA

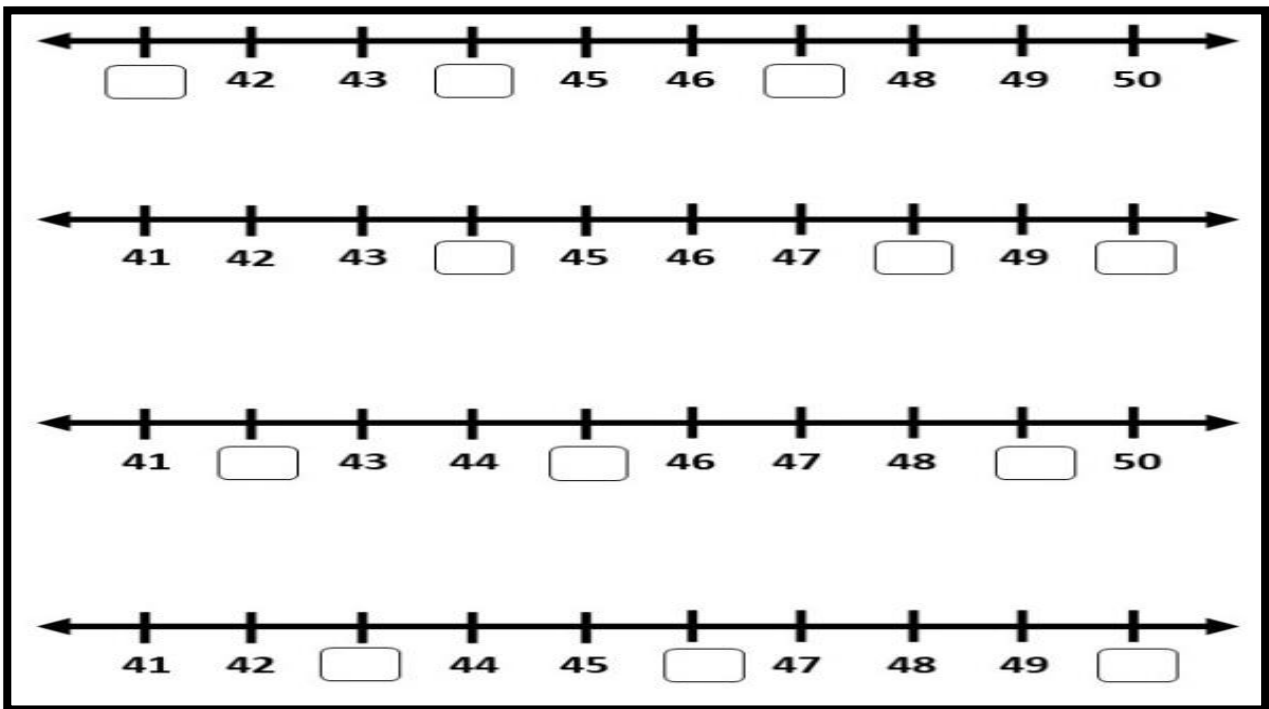
c. Andrés tiene un libro de 452 páginas, ya se leyó 274. ¿Cuántas páginas le faltan por leer?

DATOS	OPERACIÓN	RESPUESTA

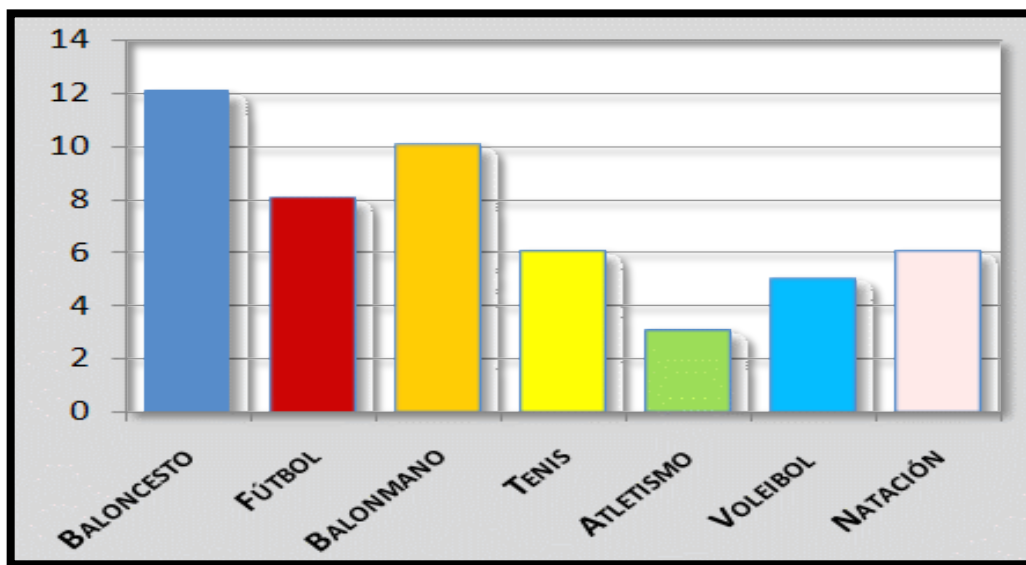
8. Observa y repasa de **azul** las líneas **abiertas** y de **rojo** las líneas **cerradas**:



9. Escribe los números que faltan en las siguientes rectas numéricas:



10. Los niños de segundo querían saber cuál es el deporte favorito de sus compañeros:



- ¿Cuál es el deporte favorito? \_\_\_\_\_
- ¿A cuántas niños les gusta el fútbol? \_\_\_\_\_
- ¿Cuál es el deporte que más les gusta? \_\_\_\_\_
- ¿Cuáles deportes tuvieron la misma votación? \_\_\_\_\_