



PLAN DE APOYO - ÁREA: MATEMÁTICAS

NOMBRE Y APELLIDOS: _____



GRADO: PRIMERO

FECHA: 11 y 13 noviembre 2017

1. Representa con elementos la cantidad que indica cada número:

9 - 7 - 3 - 5 - 8 - 1 - 4 - 2 - 6


2. Escribe la cantidad de elementos que tiene cada conjunto. Coloréalos.



3. Realiza la escritura en letras de los números indicados.

21 _____	25 _____
54 _____	57 _____
30 _____	48 _____
19 _____	15 _____
36 _____	49 _____

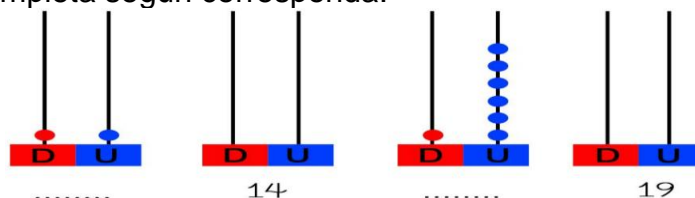
4. Completa los patrones.



5. Realiza las siguientes operaciones y escribe su resultado en números y letras.

OPERACIÓN	RESULTADO NUMERICO	RESULTADO EN LETRAS
13 - 3 =		
13 + 9 =		
15 - 8 =		
12 + 6 =		
11 - 6 =		
12 + 5 =		

6. Observa y completa según corresponda.





7. Realiza las siguientes operaciones y encierra en el cuadro los resultados con el mismo color que escribas el resultado.

- a) $20+13=$
- b) $56+39=$
- c) $247+156=$
- d) $578+214=$
- e) $589+265=$
- f) $639+258=$
- g) $830+121=$

33	39	247	1595
95	1704	1705	156
951	854	403	56
1579	258	741	897
753	792	1597	639

8. Escribe el número que se indica, teniendo en cuenta que U son unidades, D son decenas y C son centenas:

- a) 8c 9d 5u =
- b) 2c 3d 4u =
- c) 9c 6d 2u =
- d) 5c 3d 7u =
- e) 8c 7d 1u =

9. Relaciona el número con su escritura:


200
500
700
900
300
800
100
400
600

Cien
Cuatrocientos
Ochocientos
Doscientos
Seiscientos
Quinientos
Trescientos
Setecientos
Novcientos

10. Ordena los números de menor a mayor.

- 705 – 969 – 702 _____
- 713 – 868 – 859 _____
- 849 – 864 – 689 _____

11. Ubica las horas:



12. Realiza las siguientes operaciones según el signo que indica cada una:

$\begin{array}{r} 269 \\ +161 \\ \hline \end{array}$	$\begin{array}{r} 178 \\ +299 \\ \hline \end{array}$	$\begin{array}{r} 192 \\ +687 \\ \hline \end{array}$	$\begin{array}{r} 477 \\ +235 \\ \hline \end{array}$	$\begin{array}{r} 100 \\ - 99 \\ \hline \end{array}$	$\begin{array}{r} 500 \\ -145 \\ \hline \end{array}$	$\begin{array}{r} 300 \\ -234 \\ \hline \end{array}$	$\begin{array}{r} 600 \\ -364 \\ \hline \end{array}$
$\begin{array}{r} 460 \\ +167 \\ \hline \end{array}$	$\begin{array}{r} 199 \\ +288 \\ \hline \end{array}$	$\begin{array}{r} 678 \\ +678 \\ \hline \end{array}$	$\begin{array}{r} 394 \\ +263 \\ \hline \end{array}$	$\begin{array}{r} 400 \\ -270 \\ \hline \end{array}$	$\begin{array}{r} 900 \\ -743 \\ \hline \end{array}$	$\begin{array}{r} 700 \\ -368 \\ \hline \end{array}$	$\begin{array}{r} 200 \\ - 56 \\ \hline \end{array}$